




(ii) قائد اعظم (رحمۃ اللہ علیہ) کے تین راہنما اصول بیان کریں۔

(iii) علامہ اقبال (رحمۃ اللہ علیہ) کو سر کا خطاب کس نے دیا؟

(iv) پاکستان کا مکمل نام کیا ہے؟

SECTION-III

سوال نمبر 1۔ (الف): نیچے دی گئی تصویروں کو پہچانیں اور ان کے نام لکھیں۔



(ب): دیئے گئے الفاظ کی مدد سے خالی جگہ پُر کریں۔

ڈائینوسار حفیظ جان دھری کانگریس بادشاہی مسجد زندگی

(i) قدرتی وسائل کی علامت ہے۔

(ii) ناپید جانوروں میں ایک اہم نام ہے۔

(iii) قائد اعظم (رحمۃ اللہ علیہ) نے اپنی سیاسی زندگی کا آغاز سے کیا۔

(iv) علامہ اقبال (رحمۃ اللہ علیہ) کا مزار لاہور میں _____ کے قریب واقع ہے۔

(v) پاکستان کا قومی ترانہ _____ نے لکھا۔

کل نمبر: 25 واقعیت عامہ (سوئم) ٹیسٹ نمبر 6 وقت: 30 منٹ

دوسرا مہینا، چوتھا ہفتہ، چھٹا دن سلیبس: ماہانہ ٹیسٹ (باب نمبر 3، 4، 5)

SECTION-I

(5) سوال نمبر 1۔ درج ذیل میں سے درست جواب کے گرد دائرہ کائنات لگائیں۔

(i) قدرتی وسائل ہیں:

(الف)	ہوا	(ب)	پانی	(ج)	جنگلات	(د)	یہ تمام
-------	-----	-----	------	-----	--------	-----	---------

(ii) قائد اعظم محمد جناح (رحمۃ اللہ علیہ) نے اعلیٰ تعلیم _____ سے حاصل کی:

(الف)	برنزی	(ب)	ہندوستان	(ج)	انگلستان	(د)	چین
-------	-------	-----	----------	-----	----------	-----	-----

(iii) حکیم الامت کہا جاتا ہے:

(الف)	سرسید احمد خان (رحمۃ اللہ علیہ) کو	(ب)	علامہ اقبال (رحمۃ اللہ علیہ) کو
-------	------------------------------------	-----	---------------------------------

(ج)	مولانا محمد علی جوہر (رحمۃ اللہ علیہ) کو	(د)	لیاقت علی خان (رحمۃ اللہ علیہ) کو
-----	--	-----	-----------------------------------

(iv) پوری دنیا میں ہر سال نایاب جانوروں کا دن منایا جاتا ہے:

(الف)	17 مئی کو	(ب)	16 ستمبر کو	(ج)	10 اگست کو	(د)	27 جولائی کو
-------	-----------	-----	-------------	-----	------------	-----	--------------

(v) علامہ اقبال (رحمۃ اللہ علیہ) تھے:

(الف)	مذہبی راہنما	(ب)	شاعر	(ج)	سائنس دان	(د)	ڈاکٹر
-------	--------------	-----	------	-----	-----------	-----	-------

(4) (ب): کالم (الف) کو کالم (ب) سے ملائیں۔

کالم (الف)	کالم (ب)
زمین بخر ہو جائے گی	مٹی
قائد اعظم محمد علی جناح (رحمۃ اللہ علیہ) مالک تھے	اُردو اور فارسی میں
علامہ اقبال (رحمۃ اللہ علیہ) نے تنظیمیں لکھیں	عظیم خوبیوں کے
وسائل کے بے دریغ استعمال سے ماحول پر اثر پڑتا ہے	پانی کی کمی سے

SECTION-II

سوال نمبر 1۔ درج ذیل سوالات کے مختصر جواب لکھیں۔

(4x2=8)

(i) آلودگی کی مختلف اقسام کے نام لکھیں۔